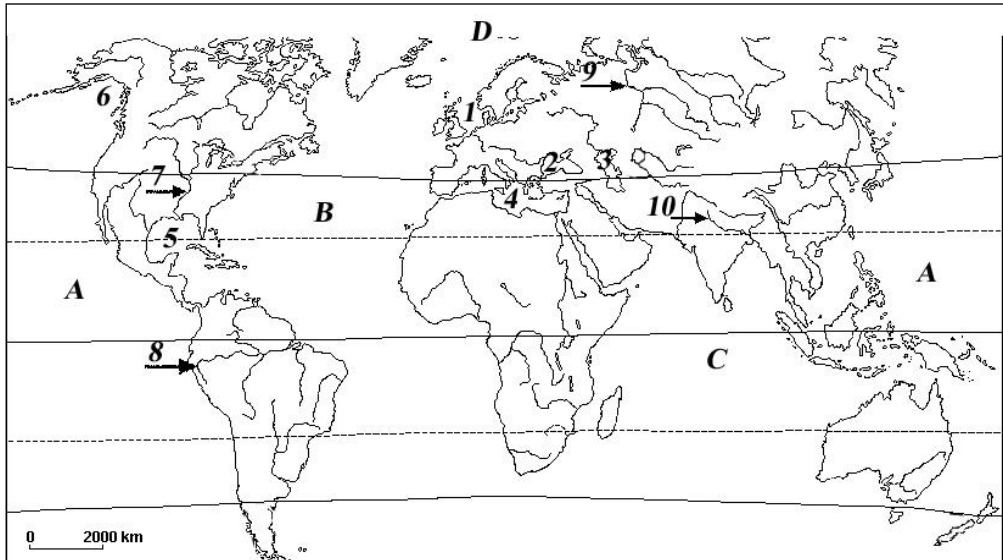


Model de subiect pentru testarea în vederea transferului Clasa a X-a

- Toate subiectele sunt obligatorii. Se acordă 10 puncte din oficiu
- Timpul de lucru efectiv este de 60 minute.



A. Analizând harta de mai sus răspundeți la următoarele cerințe:

1. numele mărilor marcate cu cifrele 1,2,3 și 4;
2. numele golfulor marcate cu cifrele 5 și 6;
3. numele oceanelor marcate cu literele A, B, C și D.

10x1p = 10 puncte

B. Explicați:

- a) De ce bate vântul.
- b) Formarea Deltei Dunării.

2x8p = 16 puncte

C. Scrieți pe foaia de examen răspunsurile corecte care completează propozițiile de mai jos:

1. Suprafața de pe care un râu își adună apele se numește ...
2. Gazul predominant din atmosferă este.....
3. Variația orei pe Glob este o consecință a mișcării dea Terrei.
4. Deplasările ritmice ale apelor marine, sub formă de flux și reflux, sunt cauzate de forța de atracție a Soarelui și a ...
5. Crăpăturile uriașe din scoarța terestră cauzate de mișcarea divergentă a plăcilor tectonice se numesc.....
6. Peșterile sunt microforme ce aparțin reliefului.....

6x2p = 12 puncte

D. Scrieți pe foaia de examen litera corespunzătoare răspunsului corect pentru fiecare dintre afirmațiile de mai jos:

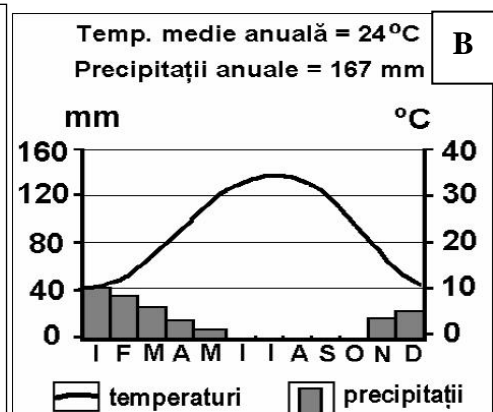
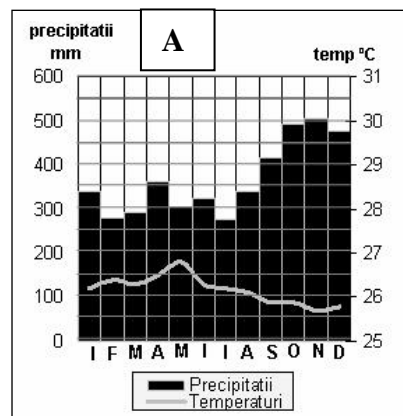
- Alizeele sunt vânturi ce bat în regiunile:
 a. polare; b. ecuatoriale; c. tropical uscate; d. musonice;
- Primul strat al atmosferei se numește::
 a. stratosfera b. ionosfera c. mezosfera d. troposfera
- Munții Dinarici sunt localizați în:
 a. Pen. India b. Pen. Scandinavă c. Pen. Florida d. Pen. Balcanică
- Lacul Balaton este un lac de origine:
 a. vulcanică b. tectonică c. hidroenergetic d. sărat
- Prin ciocnirea plăcii India cu Placa Asiatică s-au format munții:
 a. Anzi b. Himalaya c. Ural d. Taurus

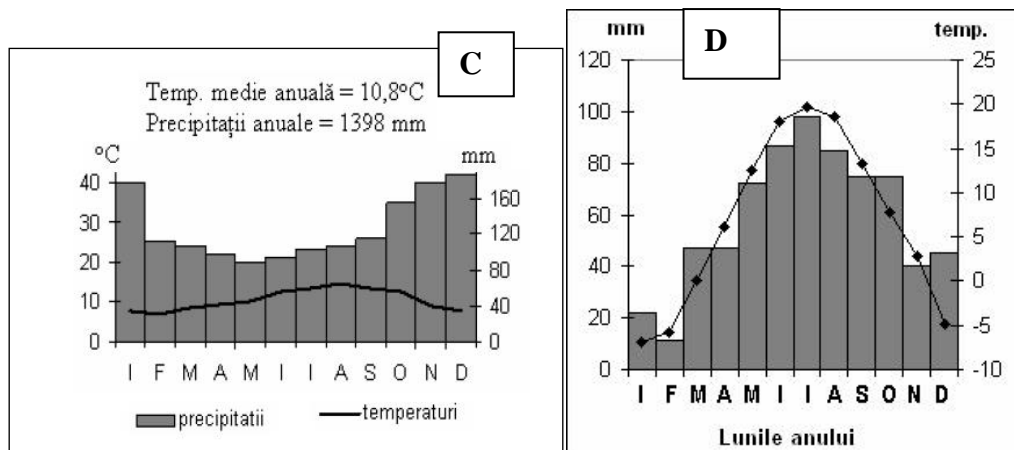
5x2p =10 puncte

E. Se dau următoarele climograme care corespund climatelor *temperat continental, temperat oceanic, ecuatorial și tropical arid*. Răspundeți următoarelor cerințe:

- stabiliți corespondența dintre tipurile de climat și cele patru climograme;
- oferiți un argument care să demonstreze alegerea făcută, pentru fiecare dintre cele 4 climograme;

4x3p =12 puncte





F. Analizați harta de mai jos și răspundeți la următoarele cerințe:

1. numiți marea la care au ieșire atât Arabia Saudită cât și Sudanul și Eritreea;
2. numiți paralela marcată pe hartă printr-o linie întreruptă;
3. precizați denumirea celor două strâmtoni ce apar pe hartă;
4. numiți marea în care se varsă Nilul;
5. notați denumirea a două peninsule ce apar pe harta de mai jos;
6. numele golfului la care au ieșire atât Iranul cât și Arabia Saudită;
7. numiți două țări africane cu ieșire la Marea Mediterană.

10 puncte

